



Questionnaire (suite) :

10	Quelle est la mission de cette dernière dans le troisième temps de la manœuvre ? Donnez en la définition. <b>La SR à la mission de SURVEILLER (0.5)</b> <b>SURVEILLER : Mission consistant dans l'observation systématique des surfaces terrestres, des lieux, des personnes et des objets, à l'aide de moyens spécifiques ou non, dans le but de déceler toute activité ennemie en un point, sur une direction ou dans une zone donnée, afin d'alerter et de renseigner.(1)</b>	1,5
11	Où se trouvera le PC du Bataillon à partir du second temps ? <b>A JIMETA</b>	0,5
12	Combien y a-t-il de ponts sur la rivière Donga ? <b>6</b>	0,5
13	Une compagnie du Génie Combat est placée sous OPCON de notre bataillon. Dessinez ci-dessous le sigle tactique de cette compagnie: 	1
14	Selon vous, et au regard du calque de manœuvre, quelles seraient les tâches à effectuer par cette compagnie de Génie lors du 1 <sup>er</sup> temps ? - <b>Mise en place d'obstacles de manœuvre entre L1 et L2 pour préparer la phase de freinage (0.5)</b> - <b>Consolider les positions défensives sur L1 (0.5)</b>	1
15	Que signifie l'acronyme OPCON ? <b>OPERATIONAL CONTROL, CONTROLE OPERATIONNEL</b>	0,5
16	Une section d'appui- mortier, équipée de mortier RTF1 de 120 mm, appuie notre manœuvre. Dessinez ci-dessous le sigle tactique de cette section: 	1
17	Sachant que la portée du mortier est de 8 km, dans quelle zone placeriez-vous cette section afin qu'elle appuie, efficacement et en sûreté, l'ensemble de la manœuvre défensive du bataillon lors du 3 <sup>e</sup> temps ? <b>zone située à environ 5 km de la L1 (voir schéma)</b> <i>(dessinez une zone de 2 km de diamètre directement sur le schéma)</i>	1,5
18	Pourquoi les Routes Départementales n°5 et n°41 sont dessinées en vert ? <b>Il s'agit de ROCADE</b>	0,5
19	Pourquoi la Route Nationale n°2 est dessinée en rouge ? <b>Il s'agit d'une PENETRANTE</b>	0,5
20	A partir du deuxième temps, au regard du schéma, où proposeriez-vous de déployer le Train de combat n°2 du bataillon ? Expliquez. <b>Plusieurs solutions valables</b> <b>1/ JIMETA / réseau routier + 1 pénétrante + présence du PC mais trop proche de L2/norme de stabilité de 6h mini (1/1.5)</b> <b>2/GOUMI /carrefour d'axes logistiques (rocares + pénétrantes), suffisamment éloigné de la LC (8/12km) et proche du PC (1.5/1.5)</b> <b>3/ plus au SUD (hors schéma), entre 10 et 15 km des TC1 (=&gt;norme) (0.5/1.5)</b>	1,5

Nom :

Prénom :

Grade :

Armée / arme :

Date de naissance :

Nationalité :

Grade, nom et visa de l'officier français responsable de la surveillance :

**CONCOURS D'ADMISSION  
A L'ECOLE D'ETAT-MAJOR DE LIBREVILLE.**

Cycle 2020-2021

Mardi 17 mars 2020

**CONNAISSANCES MILITAIRES**

Coefficient 3

Durée : 1 heures et 30 minutes

Matériels autorisés : Règle graduée, crayons ou feutres de couleur bleue et rouge.

Aucune documentation électronique ou papier (dictionnaires, mémentos...) n'est autorisée.

.....  
**PARTIE RESERVEE AU CORRECTEUR.**

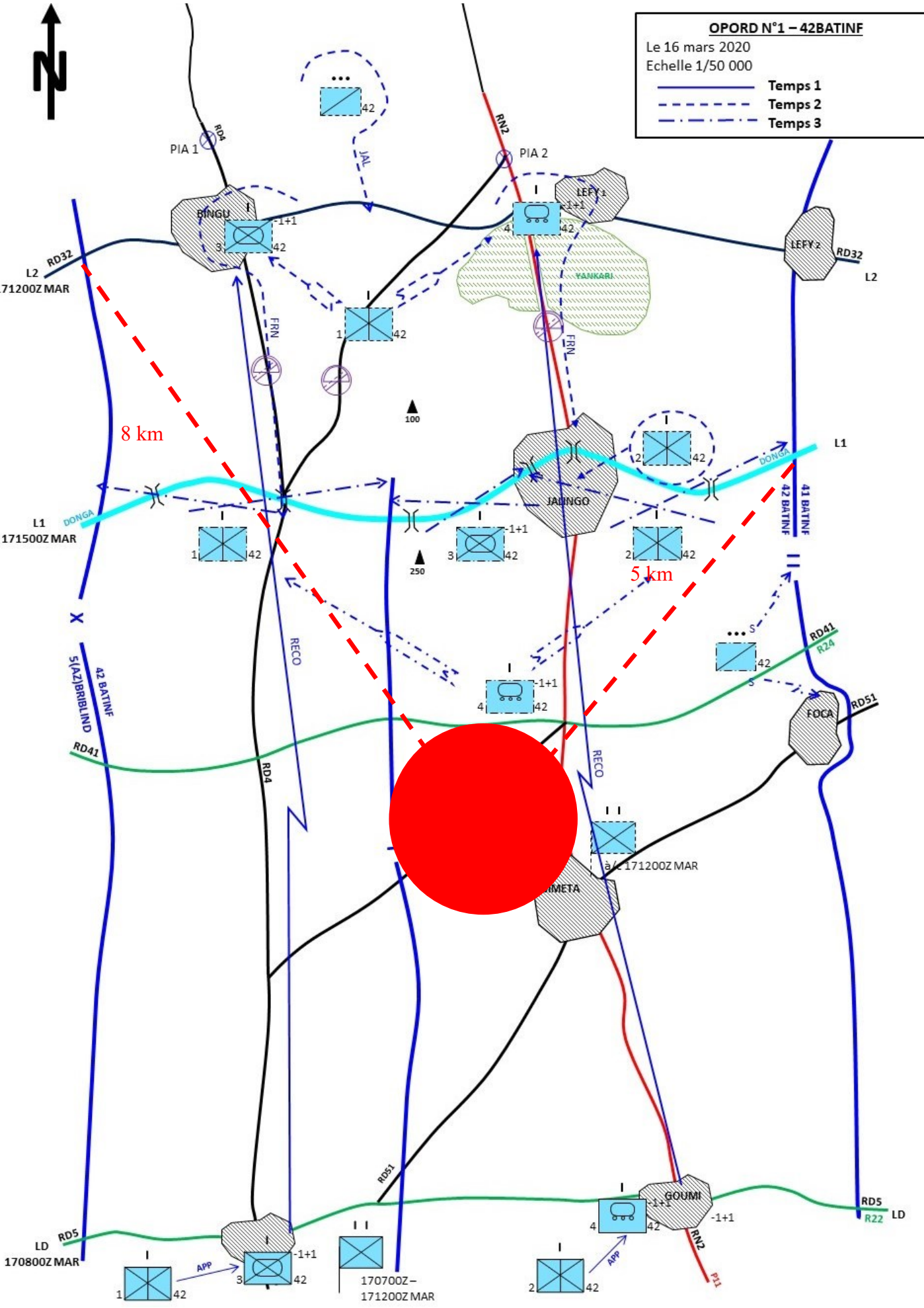
Note : ..... / 20

Remarque éventuelle :

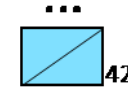


**OPORD N°1 – 42BATINF**  
 Le 16 mars 2020  
 Echelle 1/50 000

— Temps 1  
 - - - Temps 2  
 - · - · Temps 3



**Mise en situation :**  
 Vous commandez la troisième compagnie du 42<sup>e</sup> bataillon d'infanterie. Pour synthétiser l'ordre opération n°1, le chef opérations du bataillon vous distribue le schéma de manœuvre ci-contre. Pour s'assurer de votre bonne compréhension de la manœuvre à venir, il vous demande de répondre aux questions suivantes :

n°	Questions et réponses	Points
1	Quelles sont les dimensions de la Zone d'Action de notre bataillon ? échelle 1/50000 - <b>FRONT : 8km (0.5)</b> - <b>PROFONDEUR : 10 km (0.5)</b>	1
2	Décrivez le dispositif ami sur les flancs de la ZA. - A l'Est : <b>le 41<sup>e</sup> BATINF (0.5)</b> - A l'Ouest : <b>la 5<sup>e</sup>(AZ)BRIBLIND (0.5)</b>	1
3	Pour cette manœuvre, votre compagnie dispose-t-elle de « chars » ? Justifiez <b>Oui (0.5), car la compagnie est en -1+1 ce qui signifie qu'un peloton de char du 4<sup>e</sup> escadron est adapté à la compagnie. (0.5)</b>	1
4	Quelle est votre mission principale dans le premier temps de la manœuvre ? Donnez la définition de cette mission. <b>RECONNAITRE entre LD (170800Z) et L2 (171200Z) : (0.5)</b> <b>Mission consistant à aller chercher le renseignement d'ordre tactique ou technique, sur le terrain ou sur l'ennemi, sur un point ou dans une zone donnée, en engageant éventuellement le combat. (1)</b>	1,5
5	Quelle unité à la même mission principale que vous dans le deuxième temps de la manœuvre ? Quelle est cette mission ? <b>Le 4<sup>e</sup> escadron à la même mission. (0.5)</b> <b>Il s'agit de FREINER entre L2 et L1. (0.5)</b>	1
6	Que signifie PIA ? <b>Point d'Identification et d'Accueil</b>	1
7	Combien de temps dure votre mission dans le second temps ? <b>3h</b>	1
8	Quelle est votre mission dans le troisième temps de la manœuvre ? Donnez la définition de cette mission. <b>INTERDIRE (0.5)</b> <b>Mission consistant à empêcher l'ennemi d'avoir accès à telle portion de terrain ou de franchir telle ligne ou d'utiliser tel personnel ou telle installation. (1)</b>	1,5
9	Quelle est cette unité ?  <b>Section de Reconnaissance</b>	1